

Hello, today I'm okay -

Corrections
Pense à envoyer le travail

Calcul mental (9) :

$0,25 \times 2 = 0,5$

$0,5 = \frac{1}{2}$

$0,75 = \frac{3}{4}$

$0,25 = \frac{1}{4}$

$0,5 \times 2 = 1$

$0,75 \times 2 = 1,50$

$1,5 \times 2 = 3$

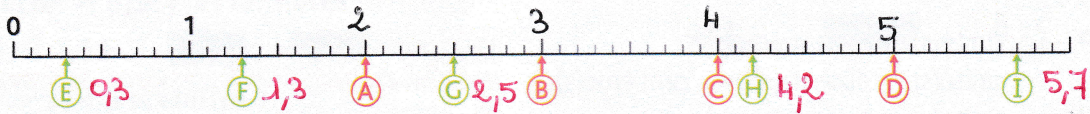
$2,5 \times 2 = 5$

Numération : les décimaux (5)

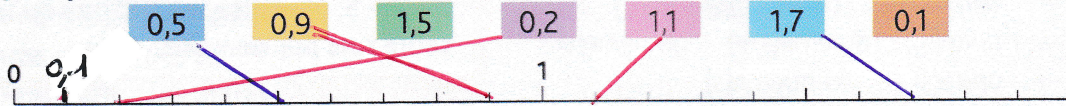
1 * Observe comment la demi-droite est graduée.

a. Écris les nombres correspondant aux lettres rouges.


b. Associe chaque nombre à une lettre verte : 4,2 2,5 1,3 0,3 5,7




2 * Reproduis cette demi-droite graduée et place les nombres.



3 * Reproduis cette demi-droite graduée sur du papier millimétré et place les nombres.



4 * Observe les graduations de la droite et indique à quels nombres correspondent les lettres bleues.



Intercaler et encadrer des nombres décimaux

5 * Observe les nombres.

2,97 0,92 4,05 2,04 5,01 4,5 4,51 1,01 0,4 3,96 4,1 6,5

a. Quels nombres s'intercalent entre 4 et 5?

b. entre 2 et 3?

c. entre 0 et 1?

4,05 - 4,5 - 4,51 - 4,1

5,01 > 5
6,5 > 5

2,97
2,04
3,96

0,92
0,4
1,01 > 1

Aide-toi d'une droite graduée sur du papier millimétré.

