



Retirer/soustraire  
Écrire l'opération.

Calcul  
Fiche n°9A

lundi mardi mercredi jeudi vendredi samedi dimanche



/ /

1 Complète comme l'exemple et indique combien il reste de poissons :

$3+2=5$

3

7 - 3 = 4

2

8 - 2 =

4

6 - 4 =

3

9 - 3 =

2 Dessine et indique combien de billes il y aura dans la boîte :

3+2=5

6

6 - 4 = 2

7

- =

3

1

- =

4

3

- =

1 Complète comme l'exemple et indique combien il reste de pois-

$3+2=5$

3

7 - 3 = 4

4

9 - 4 =

1

7 - 1 =

5

7 - 5 =

2 Dessine et indique combien de billes il y aura dans la boîte :

3+2=5

6

6 - 4 = 2

5

- =

4

4

- =

8

6

- =



Retirer/soustraire  
Écrire l'opération.

Calcul  
Fiche n°9B

lundi mardi mercredi jeudi vendredi samedi dimanche



/ /

1 Complète comme l'exemple et indique combien il reste de pois-

$3+2=5$

3

7 - 3 = 4

4

9 - 4 =

1

7 - 1 =

5

7 - 5 =

2 Dessine et indique combien de billes il y aura dans la boîte :

3+2=5

6

6 - 4 = 2

5

- =

4

4

- =

8

6

- =



Avancer/reculer  
Écrire l'opération.


Calcul  
Fiche n°10A

lundi mardi mercredi jeudi vendredi samedi dimanche

A utiliser la bande numérique. Écrire l'opération correspondante. Calculer.

1 Complète et indique sur quelle case on va planter le drapeau :

$3+2=$



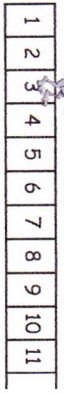
$2+3=5$

$3-3=$



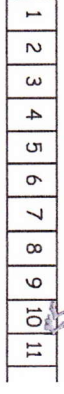
$7-3=4$

$+5$



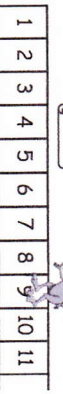
$3+5=$

$-3$



$10-3=$

$-2$



$9- =$


$+4$



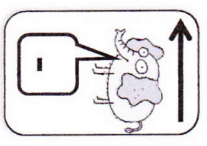
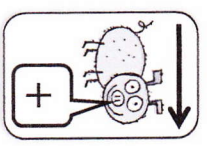
$6+ =$

2

Calcule en te déplaçant sur la bande numérique, aide-toi des animaux !!! :



- $7+3=$
- $4+4=$
- $3+2=$
- $1+5=$
- $2+5=$



- $6-3=$
- $8-2=$
- $4-3=$
- $6-5=$
- $8-1=$



Avancer/reculer  
Écrire l'opération.

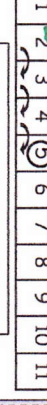
Calcul  
Fiche n°10B

lundi mardi mercredi jeudi vendredi samedi dimanche

B utiliser la bande numérique. Écrire l'opération correspondante. Calculer.

1 Complète et indique sur quelle case on va planter le drapeau :

$3+2=$



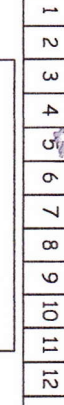
$2+3=5$

$3-3=$



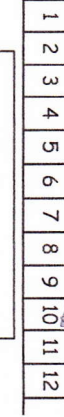
$7-3=4$

$+4$



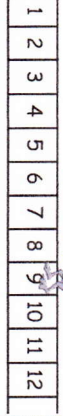
$5+4=$

$-5$



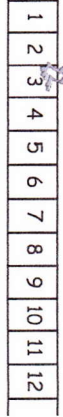
$10-5=$

$-3$



$9- =$

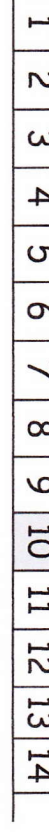
$+2$



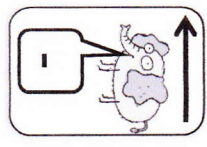
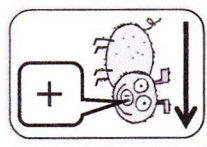
$3+ =$

2

Calcule en te déplaçant sur la bande numérique, aide-toi des animaux !!! :



- $7+2=$
- $4+3=$
- $9+1=$
- $3+5=$
- $5+5=$



- $9-6=$
- $7-1=$
- $10-3=$
- $8-4=$
- $10-1=$