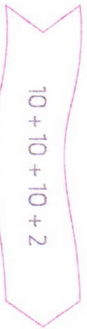
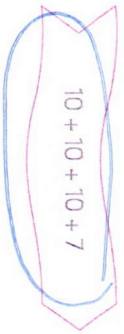


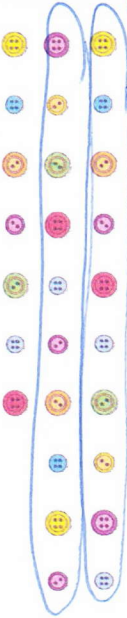
Nombres et calculs

1 Colorie l'étiquette du plus grand nombre.





Comparer en utilisant des paquets de 10.

2 Entoure des paquets de 10 boutons et complète.



Coder en utilisant des paquets de 10.

3 Entoure les jetons par 10. Complète.





Échanger 10 unités contre 1 dizaine.

4 Colorie un nombre de cases égal à 3 dizaines 2 unités.



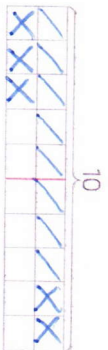
Connaitre les dizaines et les unités.

5 Colorie la bonne étiquette.



Comprendre la numération de position.

6 Aide-toi du quadrillage pour calculer 8 + 5.



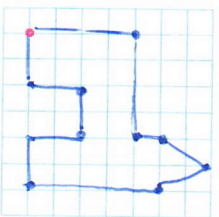
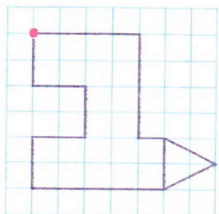
$$8 + 5 = 8 + 2 + 3$$



Calculer une somme en utilisant le complément à 10.

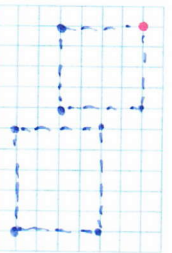

Espace et géométrie

7 Reproduis la figure.



Reproduire une figure sur quadrillage.

8 Dessine une croix dans le rectangle. Reproduis-le sur le quadrillage de droite.



Distinguer carré et rectangle.

Grandeurs et mesures

9 Mesure la longueur de la bande avec la règle graduée.



Mesurer une longueur.

Nombre et calculs

1 Complète.

28	vingt-huit	20 + 8
32	trente-deux	30 + 2
46	quarante-six	40 + 6
54	cinquante-quatre	50 + 4
65	soixante-cinq	60 + 5

Lire et décomposer les nombres inférieurs à 70.

2 Colorie le plus grand nombre de chaque étiquette.

65 58
42 49

Comparer les nombres inférieurs à 70.

3 Range ces nombres du plus grand au plus petit.

64 68 57 66

68 66 64 57

Ordonner les nombres inférieurs à 70.

4 Relie chaque nombre à son double sur la bande numérique.

2 5 7 4 9

1 2 3 4 5 6 7 8 9 10 11 12 13 14 15 16 17 18 19 20

Connaitre les doubles jusqu'à 10.

5 Complète cette partie du tableau des nombres.

34	35	36	37	38	39
44	45	46	47	48	49
54	55	56	57	58	59

Repérer les régularités de la numération décimale.

6 Calcule.

30 + 10 = 40

30 + 20 = 50

Calculer une somme de 2 nombres formés de dizaines entières.

Grandeurs et mesures

7 Entoure la monnaie nécessaire pour acheter ce coffret de peinture.

25 €

10 €

5 €

5 €

1 € 1 € 2 €

1 € 1 € 2 €

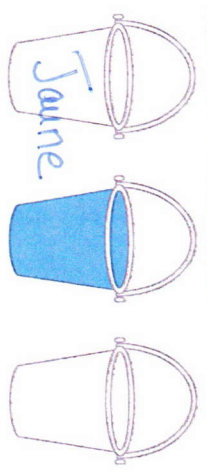
Utiliser la monnaie en euros.

Espace et géométrie

8 Entoure l'empreinte laissée par une face de ce cube.

Distinguer cube et pavé.

9 Le seau jaune est à gauche du seau bleu. Colorie-le.



Connaitre le vocabulaire de position : à droite de, à gauche de.