

Je sais me repérer et me déplacer dans l'espace

1. Observe le plan de ce quartier de la ville d'Annecy.

1. Indique le codage de la case où l'on trouve :

La gare routière : (.....)

Le cinéma Hollywood : (.....)

La poste : (.....)

Le square de l'Evêché : (.....)

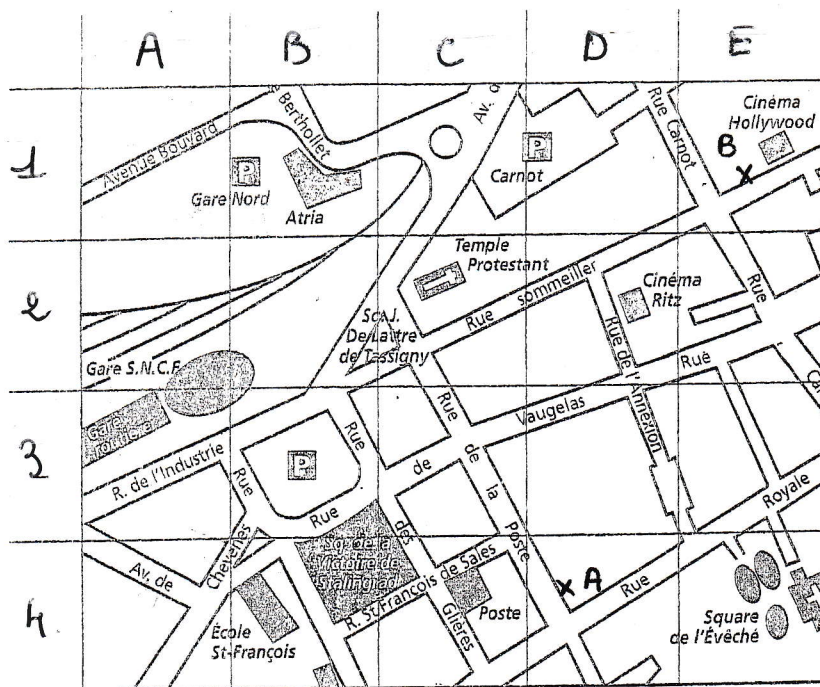
2. Un enfant doit aller de A à B en traversant les cases suivantes :

(1,D) (1,C) (2,C)

 $(2, D) \quad (3, D) \quad (4, D)$

(4, e)

Colorie son chemin en bleu.



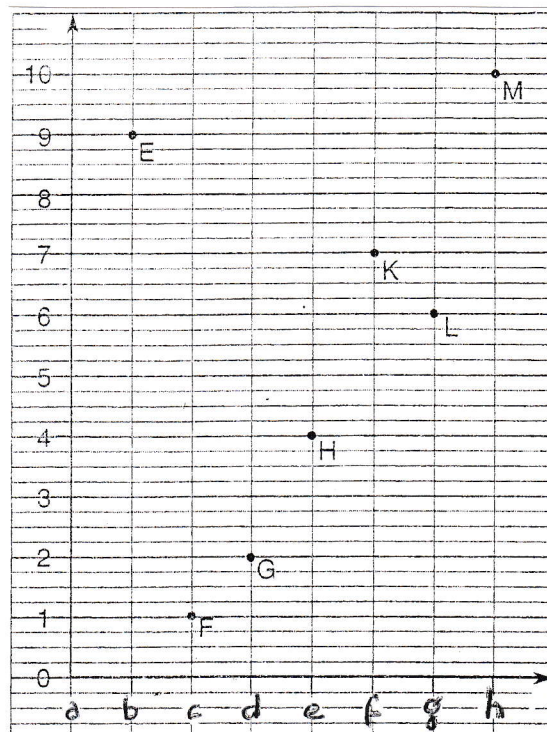
2. Retrouve le mot caché.

Relève, dans l'ordre, les lettres
situées dans les cases :

(3B) (H,C) (2A) (1C) (2,D)

le mot est :

	A	B	C	D
4	G	E	R	I
3	M	B	T	M
2	A	U	W	O
1	N	K	V	X



3. Donne les coordonnées de chaque point :

E (....,....)

F (.....)

G (.....)

H (.....)

$$K(\dots, \dots)$$
$$L(\dots, \dots)$$

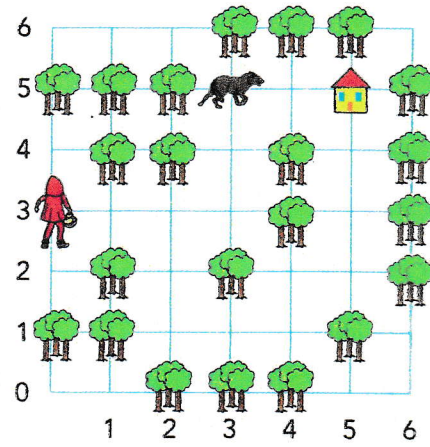

M (.....)

4 Le Petit Chaperon rouge.

Le Petit Chaperon rouge ne marche que sur le quadrillage bleu.

1. Trace le trajet que doit suivre le Petit Chaperon rouge pour rejoindre la maison en évitant le loup.

2. Décris ce chemin.



5 Trace le chemin en partant du point.

